

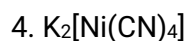
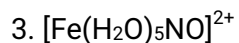
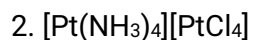
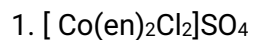
Rabindra Mahavidyalaya, Champadanga Hooghly

Sem V general internal assessment, Paper: DSE -1

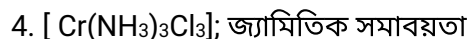
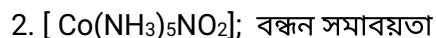
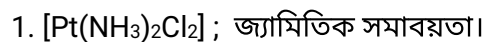
Course Title: Transition Metal & Coordination Chemistry, Analytical and Industrial Chemistry

Group A

নিম্নলিখিত যে কোনো দুটি জটিল যৌগের IUPAC নামকরণ করো। 1 x2=2



নিম্নলিখিত যে কোনো দুটি জটিল যৌগের সমাবয়তা নির্ণয় করো। 1.5x2=3



Group B

যে কোনো দুটি প্রশ্নের উত্তর দাও: 2x2.5=5

1)ইউরিয়ার শিল্প উৎপাদন প্রদ্ধতি টি লেখো।

2)সিরামিক পদার্থের বৈশিষ্ট্যগুলি লেখো?

3)পোর্টল্যান্ড সিমেন্টের উপাদান গুলি লিখো।

4) কম্পিউটারের বিভিন্ন উপাদানগুলি কী কী? RAM এবং ROM মধ্যে পার্থক্যগুলি বর্ণনা করো।